

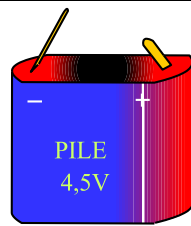
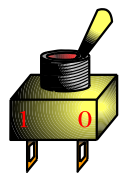
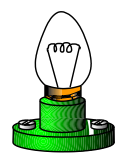
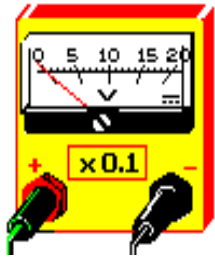



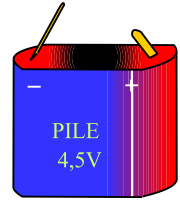
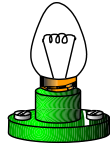
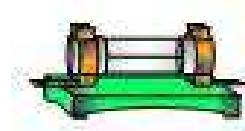
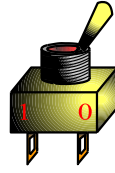
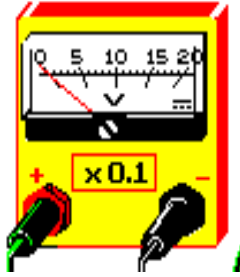
الإسم و اللقب: .....	<h2 style="text-align: center;">إختبار كتابي 2</h2> <p style="text-align: center;">             تربية تكنولوجية         </p>		
القسم : ..... الفوج : ..... ع/ر .....			
/20	7 أساسي:	الضارب: 1	مدة الإنجاز : 30 د
			التاريخ : ..... / ..... / 2008

1- أكمل الجدول بما يناسب ( تسمية المكونات الإلكترونية ' وظائفها ' وإنجاز الرموز المقننة ) .

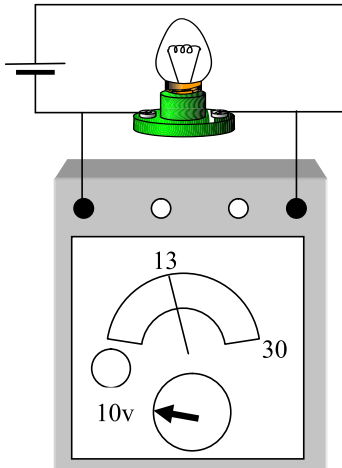
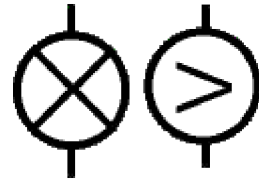

خاص  
بالأستاذ

الرمز	الوظيفة	إسم المكون	صورة المكون
	..... ..... .....	..... .....	
	..... ..... .....	..... .....	
	..... ..... .....	..... .....	
	..... ..... .....	..... .....	
	..... ..... .....	..... .....	

2- أربط المكونات بالأسلاك الناقلية للتيار الكهربائي .



3- أكمل الرسم المقنن التالي بما يناسب :



4- لاحظ المعطيات على جهاز القياس وحدد قيمة الجهد الكهربائي بين طرفي المصباح .

---

---

---

---