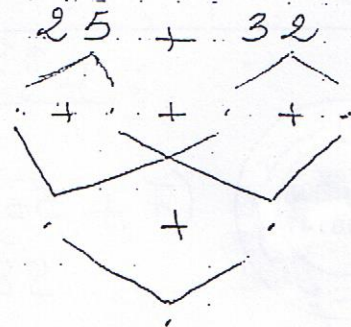


تعد نهاية العام الدراسي زار الأطفال صيعة جديهم
 فشاطعوا 32 دجاجة و 25 بطة
 1) أحسب عدد الطيور

$$\begin{array}{r} + \\ \hline = \end{array}$$

2) أكتب العدد ناقص



طلبت الجدة من أحفادها أن يجمعوا البيض
 جمع سامي 31 بيضة وسلي 14 بيضة وخليل 19 بيضة
 3) ما هو عدد البيض

$$\begin{array}{r} + \\ + \\ \hline = \end{array}$$

4) أرتب أعداد العملية تنازليا



أخذ الأطفال البيض لبيعه. ثمن البيضة 85 هي

5) أتمم بما يناسب

$$+ \cdot = 85 \quad \cdot + 25 = 85 \quad \cdot + 50 = 85$$

٦) أَغْلَى الْجَدِّ لَكِنَّ لِقَلَّ هَبْلَعًا مَالِيًا . مكتبة الخدمات

امام جامع القوية بالمنستير

ساجي	تسلمي	خليل
		
حَسِبْتُ الْقَتْلَ الْعَالِي	كَيْفَ الْقَتْلَ بِأَقَلِّ عَدِي	كَيْفَ الْقَتْلَ الْقَطِيعَ
مي	ممكن من القطيع 63 مي	الناقصة 98 مي

٧) فَحَّ الْعَلَامَةَ < = > مَكَانَ النُّقْطَةِ .



57 . 63 57 . 63
 98 . 85 98 . 85

تَعْبُدُ سَلَمَى 63 مِي تُرِيدُ شِرَاءَ قَطِيعَةٍ حَلَوَى
 نَصَمًا 75 مِي

٨) قَلَّ تَسْتَطِيعُ شِرَاءَ هَا؟

لِأَنَّ

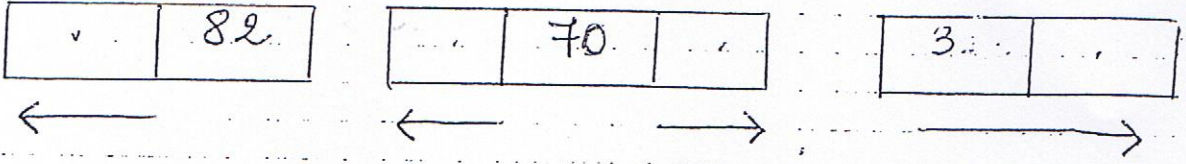
زَادَهَا أَحْوَقَهَا خَلِيلٌ 20 مِي

٩) كَمْ أَهْبَحَ عِنْدَهَا؟

+

 =

أَكْتُبُ الْعَدَدَ الصَّائِبَ



أُكْمِلُ

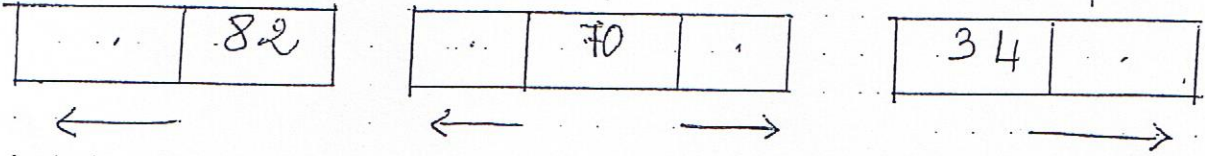
$$20 + \cdot = 25$$

$$\cdot + 60 = 63$$

$$\cdot + 30 = 32$$

$$7 + \cdot = 47$$

أَكْتُبُ الْعَدَدَ الصَّائِبَ



أُكْمِلُ

$$20 + \cdot = 25$$

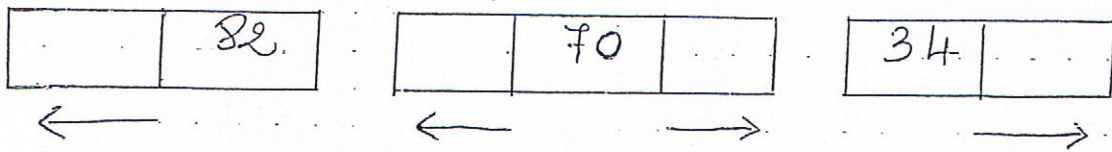
$$\cdot + 60 = 63$$

$$\cdot + 30 = 32$$

$$7 + \cdot = 47$$



أَكْتُبُ الْعَدَدَ الصَّائِبَ



أُكْمِلُ

$$20 + \cdot = 25$$

$$\cdot + 60 = 63$$

$$\cdot + 30 = 32$$

$$7 + \cdot = 47$$